

201. In the following question, some part of the sentence may have errors. Find out which part of the sentence has an error and select the appropriate option. If a sentence is free from error, select 'No Error'.  
I have give (1)/ you my (2)/ ring last week. (3)/ No error (4)  
A. 1 B. 2  
C. 3 D. 4  
Ans. A
202. In the following question, some part of the sentence may have errors. Find out which part of the sentence has an error and select the appropriate option. If a sentence is free from error, select 'No Error'.  
He is merely the personification of 'the good, the bad, and the ugly' of (1)/ news channels or perhaps the manifestation in (2)/ television news at its best. (3)/ No error (4)  
A. 1 B. 2  
C. 3 D. 4  
Ans. B
203. In the following question, the sentence given with blank to be filled in with an appropriate word. Select the correct alternative out of the four and indicate it by selecting the appropriate option.  
The parting was painful for \_\_\_\_\_.  
A. two B. second  
B. both D. it  
Ans. B
204. In the following question, the sentence given with blank to be filled in with an appropriate word. Select the correct alternative out of the four and indicate it by selecting the appropriate option.  
The mind is a tool to achieve \_\_\_\_\_ levels of consciousness, wisdom and bliss.  
A. higher B. digaonal  
C. vertical D. horizontal  
Ans. A
205. In the following question, out of the given four alternatives, select the one which best expresses the meaning of the given word.  
Incessantly  
A. Ceasing B. Irregularly  
C. Steadily D. Unevenly  
Ans. C
206. In the following question, out of the given four alternatives, select the one which best expresses the meaning of the given word.  
Ruse  
A. Rules B. Fuel  
C. Trick D. Exchange  
Ans. C
207. In the following question, out of the given four alternatives, select the one which is opposite in meaning of the given word.  
Incorrigible  
A. Hopeless B. Incurable  
C. Reformable D. Loser  
Ans. C
208. In the following question, out of the given four alternatives, select the one which is opposite in meaning of the given word.  
Eventual  
A. Future B. Last  
C. Over all D. Initial  
Ans. D
209. Rearrange the parts of the sentence in correct order.  
Disadvantage of wired telephone  
P : due to the line breakage  
Q : connection is the loss  
R : of connectivity during disasters  
A. QRP B. QPR  
C. RQP D. PQR  
Ans. B
210. A sentence has been given in Active/Passive Voice. Out of the four given alternatives, select the one which best expresses the same sentence in Passive/Active Voice.  
Tanya will bring the snake.  
A. The snake will be bring by Tanya.  
B. Tanya will be bringing the snake.  
C. The snake will be brought by Tanya.  
D. The snake brought by Tanya.  
Ans. C
211. A sentence has been given in Direct/Indirect Speech. Out of the four given alternatives, select the one which best expresses the same sentence in Indirect/Direct Speech.  
The beggar exclaimed, "will none of you help me?"

- A. The beggar asked to help him.
- B. The beggar exclaimed whether none of them would help him.
- C. The beggar exclaimed would none of them helped him.
- D. The beggar exclaimed whether they would help him.

Ans. B

212. In the following question, a word has been written in four different ways out of which only one is correctly spelt. Select the correctly spelt word.

- A. Expernce                      B. Experience
- C. Expeireince                D. Expereince

Ans. B

213. In the following passage, some of the words have been left out. Read the passage carefully and select the correct answer for the given blank out of the four alternatives.

We get sleepy and wake up, become hungry and thirsty at certain hours, \_\_\_\_\_ force of habit. We form the habit of liking a certain chair, or nook, or corner, or path, or desk, and \_\_\_\_\_ seek this to the exclusion of all others. We \_\_\_\_\_ use a particular pitch of voice and type of enunciation in speaking, and this becomes one of our characteristic marks; or we \_\_\_\_\_ the habit of using barbarisms or solecisms of language in \_\_\_\_\_, and these cling to us and become an inseparable part of us later in life.

at certain hours, \_\_\_\_\_ force of habit.

- A. tough                      B. thought
- C. though                    D. through

Ans. D

214. In the following passage, some of the words have been left out. Read the passage carefully and select the correct answer for the given blank out of the four alternatives.

We get sleepy and wake up, become hungry and thirsty at certain hours, \_\_\_\_\_ force of habit. We form the habit of liking a certain chair, or nook, or corner, or path, or desk, and \_\_\_\_\_ seek this to the exclusion of all others. We

\_\_\_\_\_ use a particular pitch of voice and type of enunciation in speaking, and this becomes one of our characteristic marks; or we \_\_\_\_\_ the habit of using barbarisms or solecisms of language in \_\_\_\_\_, and these cling to us and become an inseparable part of us later in life.

desk, and \_\_\_\_\_ seek this to the exclusion

- A. than                      B. there
- C. then                     D. that

Ans. C

215. In the following passage, some of the words have been left out. Read the passage carefully and select the correct answer for the given blank out of the four alternatives.

We get sleepy and wake up, become hungry and thirsty at certain hours, \_\_\_\_\_ force of habit. We form the habit of liking a certain chair, or nook, or corner, or path, or desk, and \_\_\_\_\_ seek this to the exclusion of all others. We \_\_\_\_\_ use a particular pitch of voice and type of enunciation in speaking, and this becomes one of our characteristic marks; or we \_\_\_\_\_ the habit of using barbarisms or solecisms of language in \_\_\_\_\_, and these cling to us and become an inseparable part of us later in life.

We \_\_\_\_\_ use a particular pitch of voice

- A. habit                      B. habits
- C. habitual                 D. habitually

Ans. D

216. In the following passage, some of the words have been left out. Read the passage carefully and select the correct answer for the given blank out of the four alternatives.

We get sleepy and wake up, become hungry and thirsty at certain hours, \_\_\_\_\_ force of habit. We form the habit of liking a certain chair, or nook, or corner, or path, or desk, and \_\_\_\_\_ seek this to the exclusion of all others. We \_\_\_\_\_ use a particular pitch of voice and type of enunciation in speaking,

and this becomes one of our characteristic marks; or we \_\_\_\_\_ the habit of using barbarisms or solecisms of language in \_\_\_\_\_, and these cling to us and become an inseparable part of us later in life.

marks; or we \_\_\_\_\_ the habit of using

A. from B. form

C. for D. of

Ans. B

217. In the following passage, some of the words have been left out. Read the passage carefully and select the correct answer for the given blank out of the four alternatives.

We get sleepy and wake up, become hungry and thirsty at certain hours, \_\_\_\_\_ force of habit. We form the habit of liking a certain chair, or nook, or corner, or path, or desk, and \_\_\_\_\_ seek this to the exclusion of all others. We \_\_\_\_\_ use a particular pitch of voice and type of enunciation in speaking, and this becomes one of our characteristic marks; or we \_\_\_\_\_ the habit of using barbarisms or solecisms of language in \_\_\_\_\_, and these cling to us and become an inseparable part of us later in life.

language in \_\_\_\_\_, and these cling

A. young B. younger

C. youths D. youth

Ans. D

218. In the following question, out of the four alternatives, select the alternative which best expresses the meaning of the idiom/phrase.

By courtesy of

A. Be very polite.

B. Do a philanthropic act forcefully.

C. Be brave and face risks for the team.

D. Given or allowed by.

Ans. D

219. In the following question, out of the four alternatives, select the alternative which best expresses the meaning of the idiom/phrase.

In the same boat

A. When the option that you have is equally bad as the situation you are in.

B. Life like the river throws the same challenges for all boats.

C. Be in the same difficult circumstances as others.

D. Big and small boats suffer the same fate in a storm.

Ans. C

220. In the following question, out of the four alternatives, select the alternative which is the best substitute of the words/sentence.

Critical explanation or interpretation of a text, especially of scripture

A. Oblivion B. Nascence

C. Exegesis D. Naivete

Ans. C

221. In the following question, out of the four alternatives, select the alternative which is the best substitute of the words/sentence.

Destruction or slaughter on a mass scale

A. Enshrine B. Cenotaph

C. Opulent D. Holocaust

Ans. D

222. In the following question, out of the four alternatives, select the alternative which will improve the bracketed part of the sentence. In case no improvement is needed, select "no improvement".

That year too, 'Photographers' (was listed) separately in the Trade List of The Madras Almanac.

A. is listed B. were listing

C. were listed D. no improvement

Ans. C

223. In the following question, out of the four alternatives, select the alternative which will improve the bracketed part of the sentence. In case no improvement is needed, select "no improvement".

But we expect them (to performs) better than all others.

A. to performing B. perform

C. to perform D. no improvement

Ans. C

224. The question below consists of a set of labelled sentences. Out of the four options

given, select the most logical order of the sentences to form a coherent paragraph.

Next to the Punjabi

A-clad in beautiful sarees

B-family was a group from Chennai in

C-which all the women were

A. BAC B. ACB

C. BCA D. ABC

Ans. C

225. In the following question, four words are given out of which one word is correctly spelt. Select the correctly spelt word.

A. meritocratic B. meritocratik

C. meritocretik D. meritocratic

Ans. D

226. निम्नलिखित प्रश्न में दिए गए विकल्पों में से संबंधित शब्द युग्म को चुनिए ।

टाई : गर्दन :: ? : ?

A. टोपी : सिर B. जूते : मोड़े

C. फीते : कपास D. कमीज : पैर

Ans. A

227. निम्नलिखित प्रश्न में दिए गए विकल्पों में से संबंधित संख्या युग्म को चुनिए ।

15 : 22 :: 19 : ?

A. 24 B. 20

C. 26 D. 22

Ans. C

228. निम्नलिखित प्रश्न में दिए गए विकल्पों में से संबंधित अक्षर युग्म को चुनिए ।

BCE : IJL :: CDF : ?

A. KLN B. JKM

C. JLN D. KMN

Ans. B

229. निम्नलिखित प्रश्न में दिए गए विकल्पों में से विषम शब्द युग्म को चुनिए ।

A. लाल - रूकना B. हरा - जाना

C. गुलाबी - लाल D. पीला - प्रतीक्षा

Ans. C

230. नीचे दिए गए प्रश्न में, चार संख्या युग्म दिए गए हैं । (-) के बायीं ओर दी संख्या (-) के दायीं

ओर दी गई संख्या से तर्क/नियम से संबंधित है । तीन उसी एक तर्क/नियम के आधार पर समान हैं । दिए गए विकल्पों में से भिन्न को चुनिए ।

A. 19 - 57

B. 13 - 39

C. 23 - 69

D. 17 - 53

Ans. D

231. निम्नलिखित प्रश्न में दिए गए विकल्पों में से विषम अक्षर/अक्षरों को चुनिए ।

A. RSUW

B. CDFI

C. KLNQ

D. STVY

Ans. A

232. निम्नलिखित शब्दों को शब्दकोश में आने वाले क्रम के अनुसार लिखें ।

1. Philosopher

2. Pharmacy

3. Piercing

4. Salesman

5. Saleswoman

A. 21345

B. 53214

C. 34215

D. 24513

Ans. A

233. निम्नलिखित प्रश्न में दिए गए विकल्पों में से लुप्त अंक ज्ञात कीजिए ।

14, 17, 21, 24, 28, 31, ?

A. 32

B. 33

C. 35

D. 34

Ans. C

234. एक अनुक्रम दिया गया है, जिसमें से एक पद लुप्त है । दिए गए विकल्पों में से वह सही विकल्प चुनिए, जो अनुक्रम को पूरा करे ।

H, K, N, ?, T, W, ?

A. R, Y

B. Q, Z

C. R, Z

D. S, X

Ans. B

235. छह बैटरियों को एक के ऊपर एक रखा गया है । जम्बो, पिक के ठीक ऊपर है । वाल्ट, टैंक तथा पिंग के मध्य है । लिफ्ट, जम्बो तथा टैंक के

मध्य है | कौन सी बैटरी नीचे से दूसरे स्थान पर है?

- A. पिक B. टैंक  
C. वोल्ट D. जम्बो

Ans. D

236. दिए गए विकल्पों में से वह शब्द चुनिए जो दिए गए शब्द के अक्षरों का प्रयोग करके नहीं बनाया जा सकता है |

Grandmother

- A. Read B. Other  
C. Author D. Reed

Ans. C

237. एक विशिष्ट कोड भाषा में, "MAGNET" को "WHQJDP" लिखा जाता है | इस कोड भाषा में "FRAUDS" को किस प्रकार लिखा जाएगा?

- A. FXRVMK B. VGXDUI  
C. XDUIGT D. TMKRDU

Ans. B

238. किसी निश्चित कोड भाषा में, '÷', '+' को प्रदर्शित करता है, '-' , 'x' को प्रदर्शित करता है, '+' , '÷' को प्रदर्शित करता है और 'x', '-' को प्रदर्शित करता है | निम्नलिखित प्रश्न का उत्तर ज्ञात करें |

$$18 + 2 \times 30 \div 6 - 4 = ?$$

- A. 46 B. 3  
C. 36 D. 7

Ans. B

239. निम्नलिखित समीकरण गलत है | इस समीकरण को सही करने के लिए किन दो चिन्हों को आपस में अदला-बदली करना चाहिए?

$$30 \div 2 - 10 \times 6 + 5 = 35$$

- A. + और ÷ B. - और +  
C. ÷ और x D. + और x

Ans. D

240. यदि  $3\#5 = -20$ ,  $1\#4 = -30$  और  $6\#5 = 10$ , तो  $4\#9 = ?$  का मान ज्ञात करें |

- A. 70 B. -60

C. -50

D. -70

Ans. C

241. निम्नलिखित में से कौन सा पद सी गयी सूची के क्रम के अनुसार है?

ZYXYXYXY, ZWXYXYXY, ZWZYXYXY, ZWZWXYXY, ZWZWZYXY, \_\_\_\_\_.

- A. XYXYXY XY B. ZYXYXYXY  
C. ZWZWZWXY D. ZWXYXYXY

Ans. C

242. एक पोस्टमैन अपने डाकघर से साईकिल पर निकलता है | वह साईकिल से दक्षिण की तरफ 7 कि.मी. जाता है, फिर पश्चिम की तरफ मुड़ता है और आगे 5 कि.मी. जाता है, फिर उत्तर की तरफ मुड़ता है और आगे 6 कि.मी. साईकिल चलाता है, फिर वह अपने दाहिने तरफ मुड़ता है और साईकिल से आगे 5 कि.मी. जाता है | अपने डाकघर के सन्दर्भ में वह अब कहाँ है?

- A. 1 कि.मी. उत्तर B. 2 कि.मी. उत्तर

- C. 1 कि.मी. दक्षिण D. 2 कि.मी. दक्षिण

Ans. C

243. प्रश्न के दो कथन दिये गये हैं जिसके आगे दो निष्कर्ष I और II निकाले गये हैं | आपको मानना है कि दोनों कथन सत्य है चाहे वह सामान्यतः ज्ञात तथ्यों से भिन्न प्रतीत होते हों | आपको निर्णय करना है की दिए गए निष्कर्षों में से कौन-सा/कौन-से निश्चित रूप से कथन द्वारा सही निकाला जा सकता है/सकते हैं, यदि कोई हो |

कथन I: सभी आलू चिप्स होते हैं

कथन II: सभी फ्रेंच फ्राइज आलू होते हैं

निष्कर्ष I: कोई भी चिप्स फ्रेंच फ्राइज नहीं होते

निष्कर्ष II: कुछ फ्रेंच फ्राइज चिप्स होते हैं

A. केवल निष्कर्ष I सही है

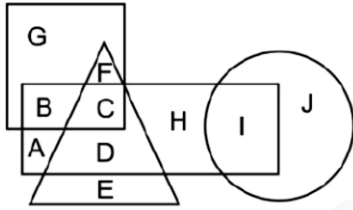
B. केवल निष्कर्ष II सही है

C. दोनों निष्कर्ष I और II सही है

D. ना तो निष्कर्ष I सही है ना ही निष्कर्ष II

Ans. B

244. निम्नलिखित आकृति में, आयत रिपोर्टर को प्रदर्शित करता है, वृत्त गीतकारों को प्रदर्शित करता है, त्रिभुज पॉटरस को प्रदर्शित करता है और वर्ग यूरोपियों को प्रदर्शित करता है। अक्षरों का कौन सा समूह उन यूरोपियों को प्रदर्शित करता है जो पॉटरस नहीं है?



- A. FC B. GB  
C. AD D. DE

Ans. B

245. एक अनुक्रम दिया गया है, जिसमें से एक पद लुप्त है। दिए गए विकल्पों में से वह सही विकल्प चुनिए, जो अनुक्रम को पूरा करे।

API, CRK, ETM, ?, IXQ

- A. HUP B. GVO  
C. IVP D. IUO

Ans. B

246. निम्नलिखित प्रश्न में दिए गए विकल्पों में से लुप्त अंक ज्ञात कीजिए।

108, 104, 100, 96, 92, ?

- A. 88 B. 8  
C. 90 D. 86

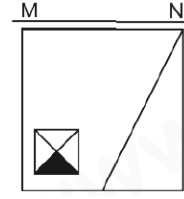
Ans. A

247. नीचे दिए गए प्रश्न में, तीन संख्याओं के चार समूह दिये गए हैं। प्रत्येक समूह में दूसरी तथा तीसरा संख्या पहली संख्या से किसी एक तर्क/नियम से सम्बंधित है। तीन उसी एक तर्क/नियम के आधार पर समान है। दिए गए विकल्पों में से भिन्न को चुनिए।

- A. (14, 29, 43) B. (15, 31, 46)  
C. (18, 37, 52) D. (13, 27, 40)

Ans. C

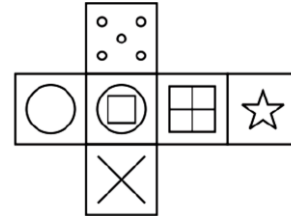
248. यदि एक दर्पण को MN रेखा पर रखा जाए तो दी गयी उत्तर आकृतियों में से कौन-सी आकृति प्रश्न आकृति का सही प्रतिबिम्ब होगी?



- A. B.   
C. D.

Ans. D

249. निम्नलिखित उत्तर आकृति में से कौन सा घन दिए गए प्रश्न आकृति में से खुले घन से बनाया नहीं जा सकता?



- A. B.   
C. D.

Ans. C

250. एक शब्द केवल एक संख्या-समूह द्वारा दर्शाया गया है, जैसा कि विकल्पों में से किसी एक में दिया गया है। विकल्पों में दिए गए संख्या-समूह अक्षरों के दो वर्गों द्वारा दर्शाए गए हैं, जैसा कि

दिए गए दो आव्यूहों में है। आव्यूह-I के स्तम्भ और पंक्ति की संख्या 0 से 4 है आव्यूह-II की 5 से 9 इन आव्यूहों से एक अक्षर को पहले उसकी पंक्ति और बाद में स्तम्भ संख्या द्वारा दर्शाया जा सकता है। उदाहरण के लिए 'B' को 13, 41 आदि द्वारा दर्शाया जा सकता है तथा 'R' को 58, 59 आदि द्वारा दर्शाया जा सकता है। इसी तरह से आपको प्रश्न में दिए शब्द "SWAM" के लिए समूह को पहचानना है।

Matrix I आव्यूह - I						Matrix II आव्यूह - II					
	0	1	2	3	4		5	6	7	8	9
0	A	L	J	F	B	5	Y	T	O	R	R
1	L	F	M	B	J	6	U	Z	Z	P	O
2	J	I	D	G	F	7	V	Y	O	O	N
3	A	F	A	G	J	8	N	S	P	O	T
4	B	B	M	I	F	9	Z	Z	W	U	O

- A. 14,75,40,98      B. 86,97,32,12  
C. 31,96,11,77      D. 24,65,13,95

Ans. B

251. अभिव्यक्ति  $\frac{550 \times 651 \times 662}{7}$  का शेष ज्ञात करें

- A. 5      B. 4  
C. 0      D. 3

Ans. C

252. सरल कीजिये  $(11.998)^3 = ?$

- A. 1727.136      B. 1331.136  
C. 1685.136      D. 1700.136

Ans. A

253.  $\left(\frac{\sqrt[4]{6}}{\sqrt[4]{3}}\right)^4$  का मान ज्ञात करें।

- A. 1      B. 2  
C. 3      D. 4

Ans. B

254.  $(a+1)^{b-1}$  का मान ज्ञात करें जब  $a^b = 343$  है।

- A. 9      B. 64  
C. 125      D. 216

Ans. B

255. दो त्रिभुज ABC और DEF में भुजा AB = DE और BC = EF है। निम्न में से कौन सा विकल्प

सही है। जिसके परिणामस्वरूप  $\triangle ABC \cong \triangle DEF$  होगा?

- A.  $\angle ACB = \angle EDF$       B.  $\angle BAC = \angle EDF$   
C.  $\angle ACB = \angle DFE$       D.  $\angle ABC = \angle DEF$

Ans. D

256. त्रिभुज ABC और DEF एक-दूसरे के समान हैं। A और E कोण क्रमशः 67 और 83 डिग्री हैं। कोण C का मान क्या है?

- A.  $20^\circ$       B.  $30^\circ$   
C.  $40^\circ$       D.  $50^\circ$

Ans. B

257. यदि R = 97 तथा S = 155.2 है, तो S, R से कितना प्रतिशत अधिक है?

- A. 60      B. 37.5  
C. 58.2      D. 48

Ans. A

258. दो संख्याओं का अनुपात 5 : 6 है। यदि उनका गुणनफल 1470 है, तो दोनों संख्याओं का योग क्या है?

- A. 210      B. 77  
C. 132      D. 98

Ans. B

259. U 45000 रु निवेश करके एक व्यापार शुरू करता है तथा एक वर्ष पश्चात V, 33000 रु की राशि के साथ उससे जुड़ जाता है। व्यापार के प्रारंभ होने के दो वर्ष पश्चात उन्हें 16400 रु का लाभ प्राप्त हुआ। लाभ में U का हिस्सा (रु में) क्या होगा?

- A. 11200      B. 9600  
C. 10000      D. 12000

Ans. D

260. एक पुरुष 300 रु प्रति की दर से 7 कमीज, 450 रु प्रति की दर से 2 पतलून तथा 500 रु प्रति की दर से 1 जोड़ी जूता खरीदता है। प्रति वस्तु औसत व्यय (रु में) क्या है?

- A. 210      B. 250  
C. 320      D. 350

Ans. D

261. एक निश्चित राशि पर 11% की वार्षिक दर से 2 वर्षों का चक्रवृद्धि ब्याज 1160.5 रु है | समान राशि पर समान ब्याज दर से 2 वर्षों का साधारण ब्याज (रु में) क्या होगा?

- A. 9000                      B. 1000  
C. 1100                      D. 1050

Ans. C

262. दो कमीज 400 रु प्रति की दर से खरीदी गई है | दुकानदार पहली को 150% के लाभ पर तथा दूसरी को 150% की हानि पर बेचता है | पुरे लेनदेन में कुछ लाभ अथवा हानि क्या होगी?

- A. 50 रु की हानि  
B. कोई लाभ/हानि नहीं  
C. 25 रु का लाभ  
D. 150 रु की हानि

Ans. B

263. दीपक अपनी मेज के मूल्य को क्रय मूल्य से 60% अधिक अंकित करता है | वह उस पर कुछ छूट देता है तथा 15.2% का लाभ कमाता है | छूट प्रतिशत क्या है?

- A. 36.4                      B. 28  
C. 44.8                      D. 38.9

Ans. B

264.  $\sqrt[3]{729} + \sqrt{441} - \sqrt[3]{343}$  का मान क्या है?

- A. 48                      B. 23  
C. 7                      D. 41

Ans. B

265. प्रवेश, दिनेश से तीन गुना कार्यकुशल है | प्रवेश एक पुस्तक को पूरा करने में दिनेश से 20 दिन कम लेता है | यदि दोनों मिलकर कार्य करते हैं, तो पुस्तक कितने दिन में पूरी हो जाएगी?

- A. 7.5                      B. 8  
C. 10                      D. 6.5

Ans. A

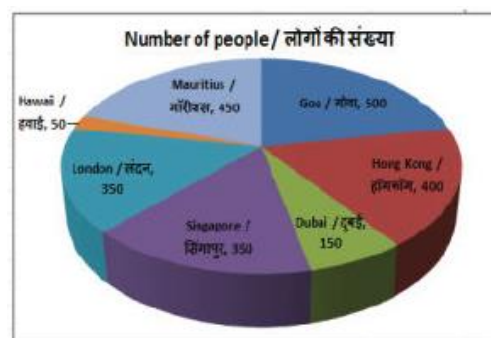
266. यदि शुभांगी 2 कि.मी./घंटा की गति से चलती है तो वह अपने विधालय 5/2 मिनट की देरी से

पहुँचती है, परंतु यदि वह 2.5 कि.मी./घंटा की गति से चलती है, तो वह निर्धारित समय से 5 मिनट पहले पहुँच जाती है | उसके घर से उसके विधालय की दूरी (कि.मी. में) क्या है?

- A. 1.025                      B. 1.125  
C. 1.25                      D. 1.5

Ans. C

267. यह पाई चार्ट एक ऑनलाइन सर्वेक्षण के परिणाम दर्शाता है जिसमें लोगों को उनके पसंदीदा यात्रा गंतव्य के बारे में पूछा गया था | इस आरेख का अध्ययन करें और निम्नलिखित प्रश्नों के उत्तर दें |



किये गये सर्वेक्षण में अधिकांश लोगों का पसंदीदा गंतव्य स्थान कौन सा है?

- A. हांगकांग                      B. मॉरिशस  
C. सिंगापुर                      D. गोवा

Ans. D

268. यह पाई चार्ट एक ऑनलाइन सर्वेक्षण के परिणाम दर्शाता है जिसमें लोगों को उनके पसंदीदा यात्रा गंतव्य के बारे में पूछा गया था | इस आरेख का अध्ययन करें और निम्नलिखित प्रश्नों के उत्तर दें |



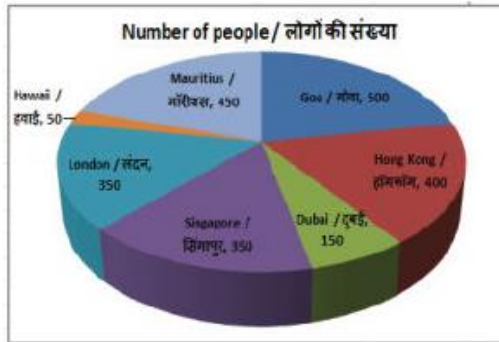


सर्वेक्षण में प्रतिक्रिया देने वाले लोगों की कुल संख्या क्या है?

- A. 2150 B. 2400  
C. 2250 D. 2100

Ans. C

269. यह पाई चार्ट एक ऑनलाइन सर्वेक्षण के परिणाम दर्शाता है जिसमें लोगों को उनके पसंदीदा यात्रा गंतव्य के बारे में पूछा गया था। इस आरेख का अध्ययन करें और निम्नलिखित प्रश्नों के उत्तर दें।



जिनकी पसंदीदा यात्रा गंतव्य हवाई है लोगों की संख्या का प्रतिनिधित्व करने वाले क्षेत्र के केंद्रीय कोण का माप \_\_\_\_\_ डिग्री है।

- A. 10 B. 12  
C. 15 D. 8

Ans. D

270. यह पाई चार्ट एक ऑनलाइन सर्वेक्षण के परिणाम दर्शाता है जिसमें लोगों को उनके पसंदीदा यात्रा गंतव्य के बारे में पूछा गया था।

इस आरेख का अध्ययन करें और निम्नलिखित प्रश्नों के उत्तर दें।



जिन उत्तरदाताओं का कहना है कि उनका पसंदीदा यात्रा गंतव्य है और जिनका पसंदीदा यात्रा गंतव्य हांगकांग है, वे कुल उत्तरदाताओं का कितना प्रतिशत गठित करते हैं?

- A. 25% B. 33.33%  
C. 30% D. 40%

Ans. D

271. एक आयत के विकर्ण की लंबाई और उसकी चौड़ाई क्रमशः 26 सें.मी. और 10 सें.मी. है। इसकी परिमाप (सें.मी. में) ज्ञात करें।

- A. 68 B. 136  
C. 43 D. 86

Ans. A

272. यदि एक नियमित बहुभुज के आंतरिक कोणों का योग  $1260^\circ$  है तो उसमें कितनी भुजाएँ हैं?

- A. 10 B. 12  
C. 15 D. 9

Ans. D

273. 42 सें.मी. व्यास और 14 सें.मी. ऊँचाई वाले एक लम्ब वृत्तीय बेलन का आयतन (घन सें.मी. में) ज्ञात करें।

- A. 19404 B. 18018  
C. 17321 D. 16729

Ans. A

274.  $\triangle ABC$  में B पर समकोण है। यदि  $m\angle A = 30^\circ$  तो  $(\sin C + 1/3)$  का मान ज्ञात करें।

- A.  $4/3$  B.  $(\sqrt{3} + 1)/2$

- C.  $(\sqrt{3}+2)/\sqrt{3}$  D.  $(3\sqrt{3}+2)/6$   
 Ans. D  
 275.  $\triangle DEF$  में E पर समकोण है | यदि  $\cos D = 5/13$ , तो  $\tan F$  का मान क्या है?  
 A.  $5/13$  B.  $5/12$   
 C.  $13/5$  D.  $13/12$   
 Ans. B  
 276. चक्रीय बेरोजगारी का क्या अर्थ है?  
 A. व्यापार चक्र में मंदी के दौरान बेरोजगारी  
 B. प्रच्छन्न बेरोजगारी  
 C. मौसमी बेरोजगारी  
 D. स्वेच्छिक बेरोजगारी  
 Ans. A  
 277. किस पंचवर्षीय योजना के दौरान नाबार्ड की स्थापना हुई थी?  
 A. पांचवां B. छठा  
 C. तीसरा D. नौवां  
 Ans. B  
 278. चित्रकला की मुगल शैली निम्नलिखित में से किस शासक के समय में शुरू हुई?  
 A. बाबर B. हुमायूँ  
 C. अकबर D. जहाँगीर  
 Ans. B  
 279. तिनकठिया प्रथा का संबंध निम्न में से किस क्षेत्र से है?  
 A. चंपारण B. खेड़ा  
 C. बारडोली D. दरभंगा  
 Ans. A  
 280. निम्नलिखित में से कौन-सा युग्म सुमेलित नहीं है?  
 A. शान्त ज्वालामुखी : डेमवंद  
 B. जाग्रत ज्वालामुखी - स्ट्रोम्बोली  
 C. प्रसुप्त ज्वालामुखी - क्राकाटाओ  
 D. निष्क्रिय ज्वालामुखी - एटना  
 Ans. D

281. उत्तर - पश्चिम भारत में स्थित पर्वत है :  
 \_\_\_\_\_ |  
 A. अरावली B. विंध्याचल  
 C. हिन्दुकुश D. सतपुड़ा  
 Ans. A  
 282. पंडित जसराज ने निम्नलिखित में से किस क्षेत्र में अपनी प्रतिष्ठा स्थापित की है?  
 A. साहित्य लेखन B. वाद्य वादन  
 C. शास्त्रीय गायन D. शास्त्रीय नृत्य  
 Ans. C  
 283. निम्नलिखित में से कौन पुरुषों और महिलाओं का समान वेतन देने वाला विश्व का पहला देश बन गया है?  
 A. आइसलैंड B. डेनमार्क  
 C. स्वीडन D. रूस  
 Ans. A  
 284. किसी बॉलीवुड अभिनेता को जनवरी 2018 में विश्व आर्थिक मंच पर 24वें क्रिस्टल अवार्ड से सम्मानित किया गया?  
 A. शाहरुख खान B. आमिर खान  
 C. सलमान खान D. सैफ अली खान  
 Ans. A  
 285. बांग्लादेश का राष्ट्रीय ध्वज \_\_\_\_\_ द्वारा डिज़ाइन किया गया था |  
 A. नंदलाल बोस  
 B. काजी नजरुल इस्लाम  
 C. कामरुल हसन  
 D. जियाउर रहमान  
 Ans. C  
 286. निम्नलिखित में से कौन सा एक न्यूक्लियॉन नहीं है?  
 A. प्रोटोन  
 B. इलेक्ट्रॉन

C. न्यूट्रॉन

D. कोई विकल्प सही नहीं है ।

Ans. B

287. बेकिंग सोडा का प्रयोग \_\_\_\_\_ में होता है ।

I. बेकिंग पाउडर बनाने

II. सोडा अम्ल अग्निशामक

III. पेट में अम्ल की अधिकता को उदासीन करने

A. केवल I तथा II

B. केवल I तथा III

C. केवल II तथा III

D. I, II तथा III सभी

Ans. D

288. लोकसभा का सदस्य बनने के लिए किसी व्यक्ति की न्यूनतम योग्यता क्या होनी चाहिए?

I. वह भारतीय नागरिक होना चाहिए ।

II. वह कम से कम 25 वर्ष की आयु का होना चाहिए ।

III. वह केन्द्रीय सरकार के अंतर्गत किसी लाभवित्त पद पर होना चाहिए ।

A. I तथा II दोनों

B. I तथा III दोनों

C. II तथा III दोनों

D. I, II तथा III सभी

Ans. A

289. भारतीय संसदीय प्रणाली, सबसे बड़ी विपक्षी पार्टी के लीडर जिसके पास सदन की कुल संख्या की \_\_\_\_\_ सीटों से कम नहीं है, उस सदन के विपक्षी दल का लीडर माना जाता है ।

A. 1/10 वीं

B. 1/9 वीं

C. 1/8 वीं

D. 1/7 वीं

Ans. A

290. अवरोधिनी पेशी द्वारा अमाशय में क्या नियंत्रित किया जाता है?

A. अमाशय से भोजन का निकास

B. अमाशय में भोजन का प्रवेश

C. अमाशय में भोजन का मिश्रण

D. वृहद्रांत से भोजन का निकास

Ans. D

291. जीवों का \_\_\_\_\_ उनके विकास के संबंधों का प्रतिबिंब है ।

A. अभिलक्षण

B. अनुकूलन

C. द्रशंत

D. वर्गीकरण

Ans. D

292. राष्ट्रीय कौशल विकास निगम (एनएसडीसी) तथा \_\_\_\_\_ मोबाइल ऐप विकास प्रशिक्षण देने के लिए 'एंड्राइड स्किल डेवलपमेंट प्रोग्राम' लोकार्पित करने की योजना बना रहे हैं ।

A. माइक्रोसॉफ्ट

B. गूगल

C. अमेज़न

D. इनफोसिस

Ans. B

293. सोयाबीन तेल को ग्राफिन में बदलने के लिए ऑस्ट्रेलियाई वैज्ञानिकों द्वारा विकसित प्रौद्योगिकी का नाम क्या है?

A. ग्रेप

B. ग्राफवन

C. ग्राफसोए

D. ग्राफएयर

Ans. D

294. अगस्त 2017 में, कसीने 'एस एंड पी बीएसई भारत-22 सूचकांक' लोकार्पित किया?

A. एशिया सूचकांक

B. यूरोप सूचकांक

C. ऑस्ट्रेलिया सूचकांक

D. अफ्रीका सूचकांक

Ans. A

295. 3 जनवरी 2018 को, लोकसभा ने प्राचीन स्मारक तथा पुरातत्व स्थल तथा अवशेष (संशोधन) विधेयक, 2017 को पारित किया जो \_\_\_\_\_ संशोधित करता है।

- A. प्राचीन स्मारक तथा पुरातत्व स्थल एवं अवशेष (एएमएसआर) अधिनियम, 1958
- B. प्राचीन स्मारक तथा पुरातत्व स्थल एवं अवशेष (एएमएसआर) अधिनियम, 1978
- C. प्राचीन स्मारक तथा पुरातत्व स्थल एवं अवशेष (एएमएसआर) अधिनियम, 1988
- D. प्राचीन स्मारक तथा पुरातत्व स्थल एवं अवशेष (एएमएसआर) अधिनियम, 1996

Ans. A

296. 10 किलोग्राम द्रव्यमान वाली वस्तु की गतिज ऊर्जा (जूल में) ज्ञात करें जिसका वेग 5 मीटर/सेकंड है।

- A. 25
- B. 125
- C. 62.5
- D. 50

Ans. B

297. यदि पृथ्वी की सतह पर गुरुत्वीय त्वरण  $g$  है तो ऐसा ग्रह जिसका द्रव्यमान पृथ्वी के द्रव्यमान से दुगुना तथा जिसकी त्रिज्या पृथ्वी की त्रिज्या के बराबर हो, पर गुरुत्वीय त्वरण \_\_\_\_\_ होगा।

- A.  $2g$
- B.  $g$
- C.  $g/2$
- D.  $4g$

Ans. A

298. रिक्टर पैमाने पर, 6 परिमाण के किसी भूकंप की विनाशी ऊर्जा 4 परिमाण के भूकंप की तुलना में \_\_\_\_\_ गुनी अधिक होती है।

- A. दस
- B. सौ
- C. पांच
- D. हजार

Ans. D

299. निम्नलिखित में से कौन सा कथन सत्य है?

- I. 2017 में गैरी काहिल ने प्रीमियम लीग टीम चेल्सी की कप्तानी की।
- II. 2017 में जॉर्डन हैंडरसन ने प्रीमियर लीग टीम लिवरपुल की कप्तानी की।
- III. कनाडा ने 2017 एआईबीए वर्ल्ड बॉक्सिंग चैंपियनशिप की मेजबानी की।

- A. केवल B
- B. A और B दोनों
- C. B और C दोनों
- D. इनमें से कोई नहीं

Ans. B

300. \_\_\_\_\_ प्रमुख व्यापार निकाय है और भारत में आईटी-बीपीओ उद्योग का चैंबर ऑफ कॉमर्स।

- A. एनआईसी
- B. नैसकॉम
- C. सूचना प्रौद्योगिकी विभाग
- D. सती बैंक ऑफ इंडिया

Ans. B